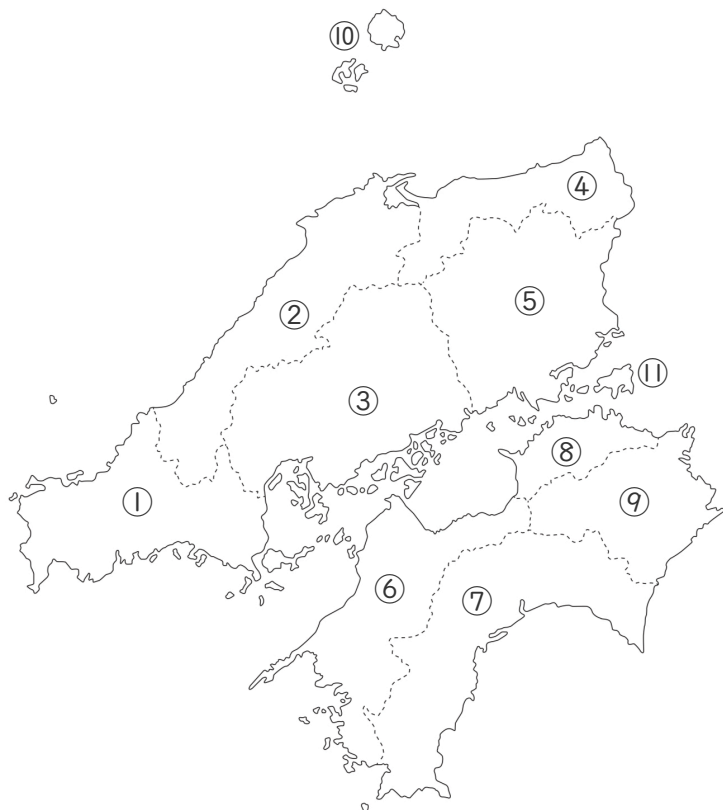


月	名前	点
日		

①～⑨の県名と県庁所在地を書きなさい。

⑩～⑪の島の名前を書きなさい。



① 県名

県庁所在地

② 県名

県庁所在地

③ 県名

県庁所在地

④ 県名

県庁所在地

⑤ 県名

県庁所在地

⑥ 県名

県庁所在地

⑦ 県名

県庁所在地

⑧ 県名

県庁所在地

⑨ 県名

県庁所在地

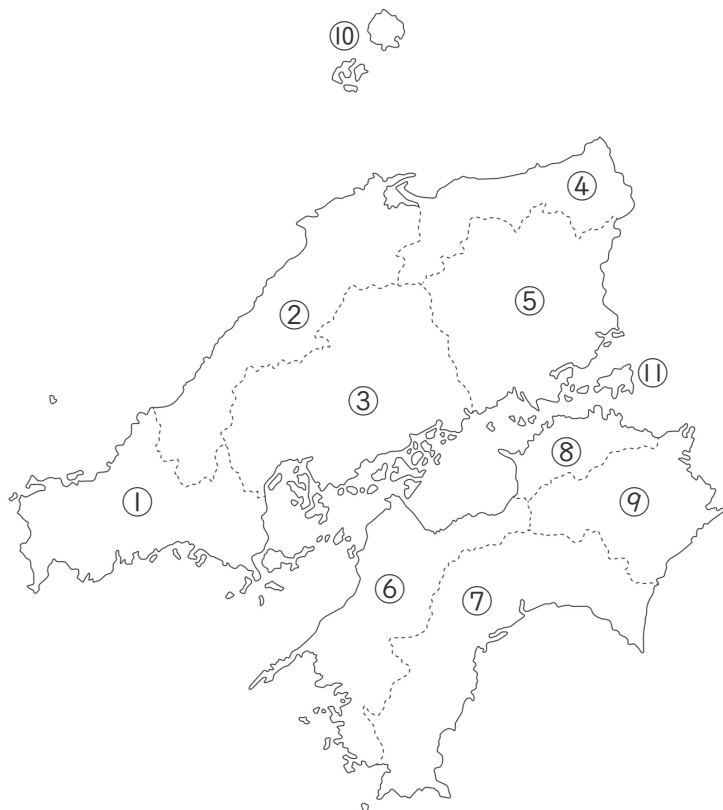
⑩

⑪

月	名前	点
日		

①～⑨の県名と県庁所在地を書きなさい。

⑩～⑪の島の名前を書きなさい。



\* 中国・四国地方で、県名と県庁所在地が違う場合、全部『松』が付く

① 山口県

山口市

② 島根県

松江市

③ 広島県

広島市

④ 鳥取県

鳥取市

⑤ 岡山県

岡山市

⑥ 愛媛県

松山市

⑦ 高知県

高知市

⑧ 香川県

高松市

⑨ 徳島県

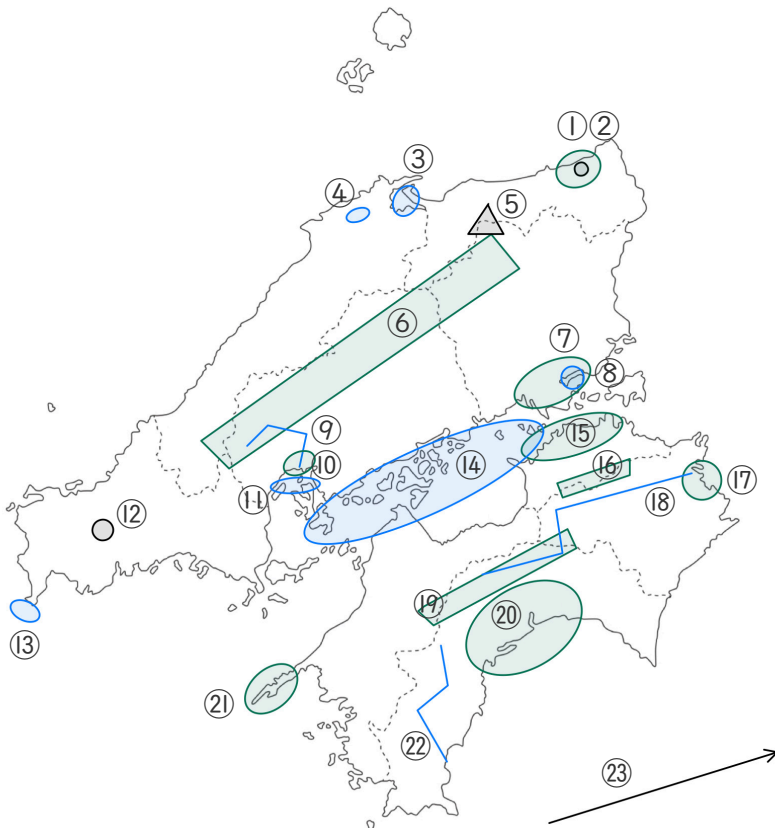
徳島市

⑩ 隠岐

⑪ 小豆島

月	名前	点
日		

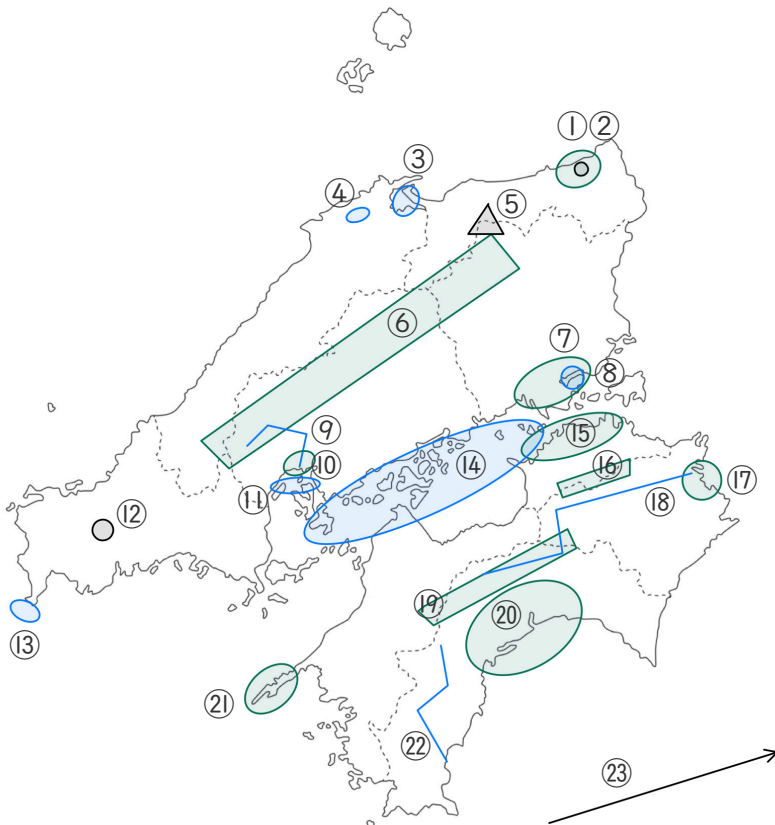
①～②③にあてはまる山・山地・川・湾・海・海流・海峡・湖・平野・半島・地形の名前を答えなさい。



- ① (平野) \_\_\_\_\_
- ② (地形) \_\_\_\_\_
- ③ (湖) \_\_\_\_\_
- ④ (湖) \_\_\_\_\_
- ⑤ (山) \_\_\_\_\_
- ⑥ (山地) \_\_\_\_\_
- ⑦ (平野) \_\_\_\_\_
- ⑧ (湾) \_\_\_\_\_
- ⑨ (川) \_\_\_\_\_
- ⑩ (平野) \_\_\_\_\_
- ⑪ (湾) \_\_\_\_\_
- ⑫ (地形) \_\_\_\_\_
- ⑬ (海峡) \_\_\_\_\_
- ⑭ (海) \_\_\_\_\_
- ⑮ (平野) \_\_\_\_\_
- ⑯ (山地) \_\_\_\_\_
- ⑰ (平野) \_\_\_\_\_
- ⑱ (川) \_\_\_\_\_
- ⑲ (山地) \_\_\_\_\_
- ⑳ (平野) \_\_\_\_\_
- ㉑ (半島) \_\_\_\_\_
- ㉒ (川) \_\_\_\_\_
- ㉓ (海流) \_\_\_\_\_

月	名前	点
日		

①～②③にあてはまる山・山地・川・湾・海・海流・海峡・湖・平野・半島・地形の名前を答えなさい。



- ① (平野) 鳥取平野
- ② (地形) 鳥取砂丘
- ③ (湖) なかうみ 中海
- ④ (湖) しんじこ 穴道湖
- ⑤ (山) だいせん 大山
- ⑥ (山地) 中国山地
- ⑦ (平野) 岡山平野
- ⑧ (湾) こじま 児島湾
- ⑨ (川) おおた 太田川
- ⑩ (平野) 広島平野
- ⑪ (湾) 広島湾
- ⑫ (地形) あきよしだい 秋吉台
- ⑬ (海峡) かんもんかいきょう 関門海峡
- ⑭ (海) せ と ないかい 瀬戸内海
- ⑮ (平野) さぬき 讃岐平野
- ⑯ (山地) さぬき 讃岐山地
- ⑰ (平野) 徳島平野
- ⑱ (川) 吉野川
- ⑲ (山地) 四国山地
- ⑳ (平野) 高知平野
- ㉑ (半島) さ た みさき 佐多岬半島
- ㉒ (川) しまんと しまんと川
- ㉓ (海流) くろしお 日本海流 (黒潮)