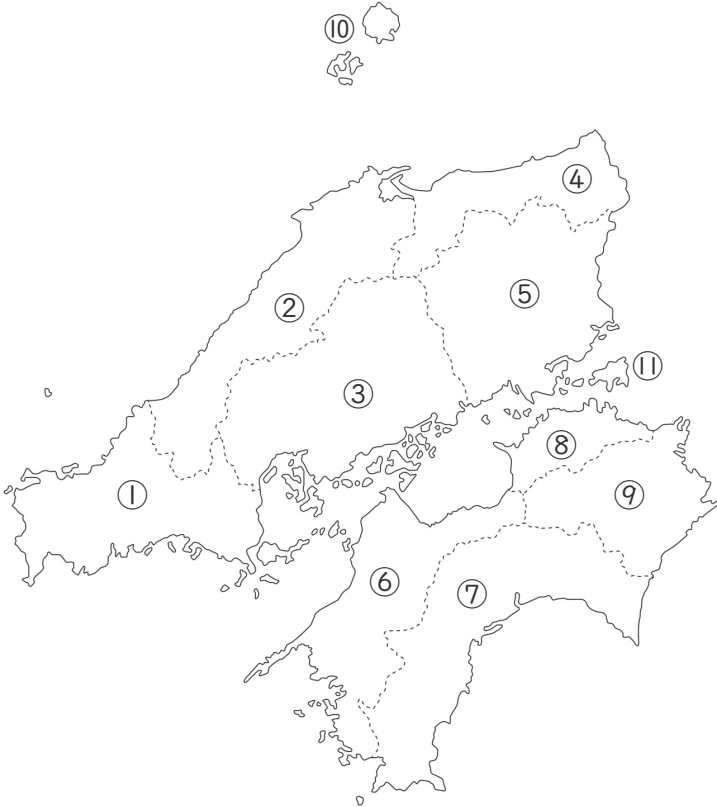


4年の地理
 中国・四国①
 ～県名と県庁所在地～

月	名前	
日		点

①～⑨の県名と県庁所在地を書きなさい。
 ⑩～⑪の島の名前を書きなさい。



① 県名 _____

県庁所在地 _____

② 県名 _____

県庁所在地 _____

③ 県名 _____

県庁所在地 _____

④ 県名 _____

県庁所在地 _____

⑤ 県名 _____

県庁所在地 _____

⑥ 県名 _____

県庁所在地 _____

⑦ 県名 _____

県庁所在地 _____

⑧ 県名 _____

県庁所在地 _____

⑨ 県名 _____

県庁所在地 _____

⑩ _____

⑪ _____

4年の地理

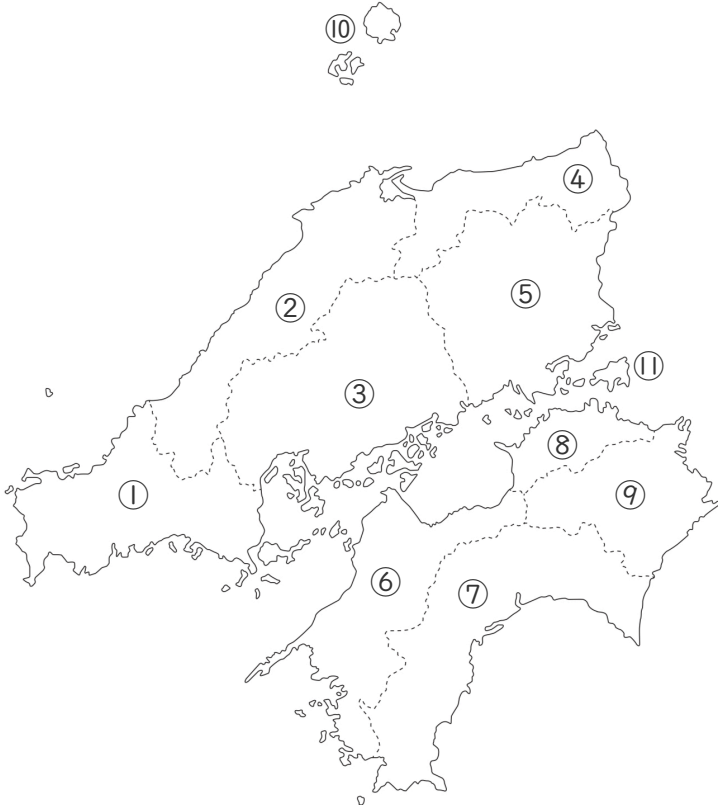
中国・四国① 【解答】

～県名と県庁所在地～

月	名前	点
日		

①～⑨の県名と県庁所在地を書きなさい。

⑩～⑪の島の名前を書きなさい。



① 山口県 _____

山口市 _____

② 島根県 _____

松江市 _____

③ 広島県 _____

広島市 _____

④ 鳥取県 _____

鳥取市 _____

⑤ 岡山県 _____

岡山市 _____

⑥ 愛媛県 _____

松山市 _____

⑦ 高知県 _____

高知市 _____

⑧ 香川県 _____

高松市 _____

⑨ 徳島県 _____

徳島市 _____

⑩ 隠岐 _____

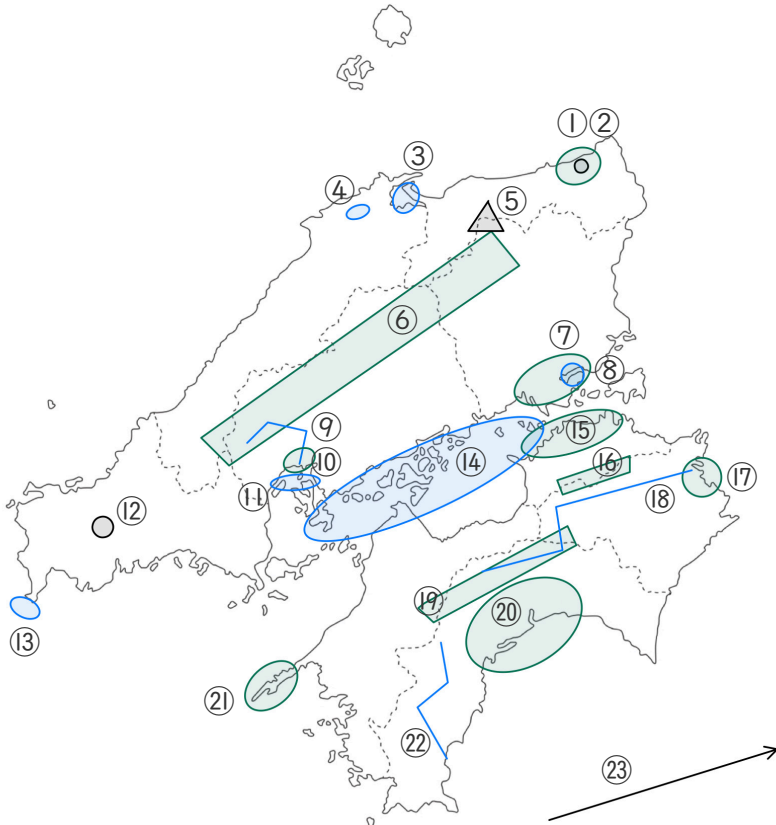
⑪ 小豆島 _____

* 中国・四国地方で、県名と県庁所在地が違う場合、全部『松』が付く

4年の地理
中国・四国②
～地形～

月	名前	点
日		

①～⑳にあてはまる山・山地・川・湾・海・海流・海峡・湖・平野・半島・地形の名前を答えなさい。

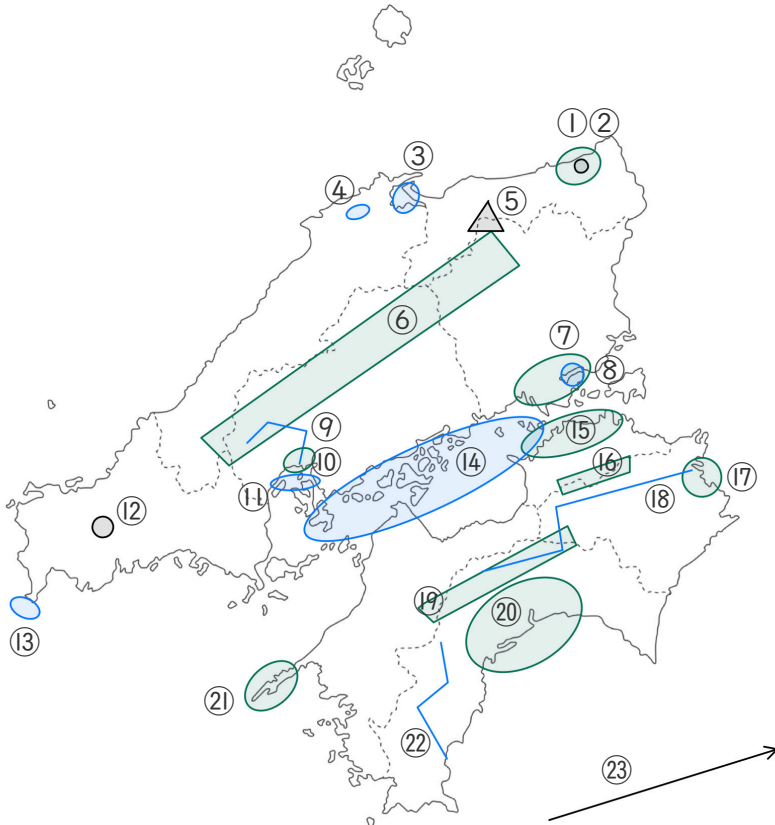


- ① (平野) _____
- ② (地形) _____
- ③ (湖) _____
- ④ (湖) _____
- ⑤ (山) _____
- ⑥ (山地) _____
- ⑦ (平野) _____
- ⑧ (湾) _____
- ⑨ (川) _____
- ⑩ (平野) _____
- ⑪ (湾) _____
- ⑫ (地形) _____
- ⑬ (海峡) _____
- ⑭ (海) _____
- ⑮ (平野) _____
- ⑯ (山地) _____
- ⑰ (平野) _____
- ⑱ (川) _____
- ⑲ (山地) _____
- ⑳ (平野) _____
- ㉑ (半島) _____
- ㉒ (川) _____
- ㉓ (海流) _____

4年の地理
中国・四国②【解答】
～地形～

月	名前	点
日		

①～⑳にあてはまる山・山地・川・湾・海・海流・海峡・湖・平野・半島・地形の名前を答えなさい。



- ① (平原) 鳥取平野
- ② (地形) 鳥取砂丘
- ③ (湖) なかうみ 中海
- ④ (湖) しんじこ 穴道湖
- ⑤ (山) だいせん 大山
- ⑥ (山地) 中国山地
- ⑦ (平野) 岡山平野
- ⑧ (湾) こじま 児島湾
- ⑨ (川) おおた 太田川
- ⑩ (平野) 広島平野
- ⑪ (湾) 広島湾
- ⑫ (地形) あきよしだい 秋吉台
- ⑬ (海峡) かんもんかいきょう 関門海峡
- ⑭ (海) せとないかい 瀬戸内海
- ⑮ (平野) さぬき 讃岐平野
- ⑯ (山地) さぬき 讃岐山地
- ⑰ (平野) 徳島平野
- ⑱ (川) 吉野川
- ⑲ (山地) 四国山地
- ⑳ (平野) 高知平野
- ㉑ (半島) さたみさき 佐多岬半島
- ㉒ (川) しまんと 四万十川
- ㉓ (海流) くろしお 日本海流 (黒潮)