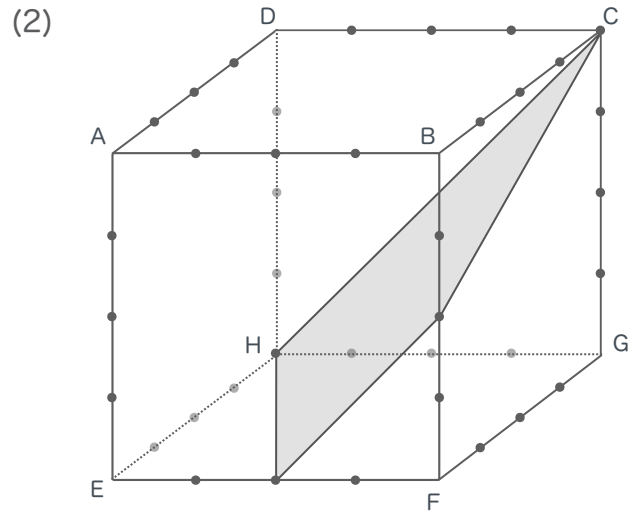
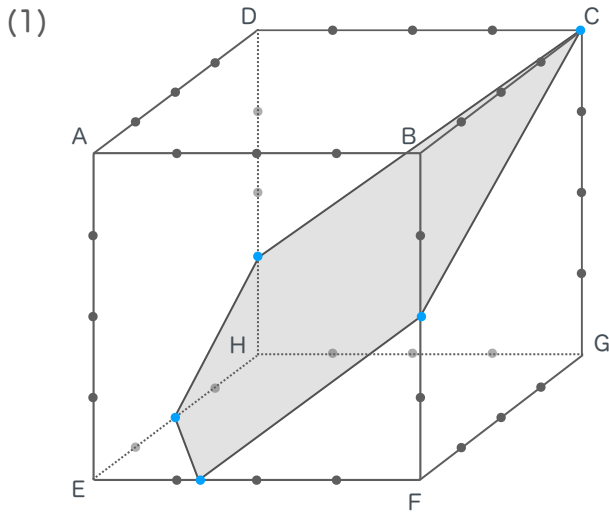


せつだん  
立体の切断 ⑫  
[間違い探し ③]  
[小学4~6年生]

月	名前
日	

点
---

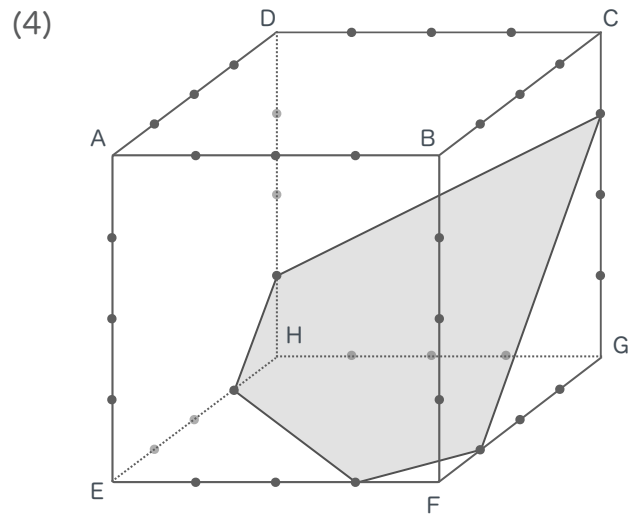
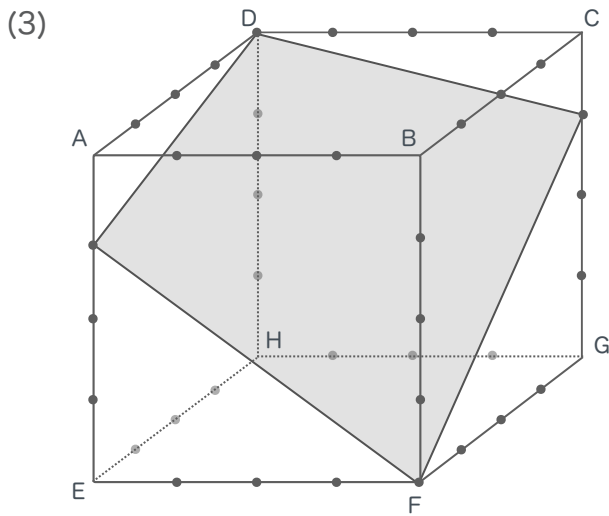
かづ  
下図の全ての立方体は各辺が4等分されています。切断面の形を答えなさい。ただし、そのような切断面  
がありえない場合は、解答欄に✕と記しなさい。



\*通っている点は青点

(1) \_\_\_\_\_

(2) \_\_\_\_\_



(3) \_\_\_\_\_

(4) \_\_\_\_\_