

正断層/逆断層の練習問題

(1) 下図は正断層か逆断層のどちらか答えよ。




(1) _____

(2) 下図は正断層か逆断層のどちらか答えよ。




(2) _____

(3) 下図は正断層です。青い側は、赤い側に対して、aとbのどちらに動くでしょうか。




(3) _____

(4) 下図は逆断層です。赤い側は、青い側に対して、aとbのどちらに動くでしょうか。



(4) _____

(5) 下図において、この断層には「引っ張る力」と「押しつぶす力」のどちらが働いているでしょうか。



(5) _____